



Sindhi High School, K.K. Road, Bangalore

Periodic Test I 2025-26

Subject-English

No. of sides: 5



Name: _____

Date: 14/07/2025

Class: III A/B/C

Marks: 30

Roll No. _____

Time : 8:00 – 9.10am

Section A – Reading (5 marks)

I. Read the passage and answer the following questions:

Maya lived in a small town surrounded by hills and forests. Every morning, she walked to school with her best friend, Aanya. On the way, they would watch butterflies fluttering and squirrels jumping from one tree to another. Maya loved nature and always carried a small notebook to draw birds, flowers, and insects she saw.

One day, on their way to school, Maya saw a little bird with an injured wing lying on the ground. She picked it up gently and took it home. With her mother's help, Maya made a soft bed for the bird and fed it with seeds and water. After a few days, the bird was strong again and flew away happily. Maya felt proud that she helped a creature in need.

Choose the correct answer:

1. Where did Maya live?

[1]

- a) In a city
- b) Near a beach
- c) In a small town
- d) In a desert

2. What did Maya carry in her bag every day?

[1]

- a) A water bottle
- b) A small notebook
- c) A box of crayons
- d) A storybook

Type of N
2. My
T

3. What did Maya see on the way to school? [1]

- a) Cars and buses
- b) Shops and roads
- c) Butterflies and squirrels
- d) Boats and rivers

Answer the following:

4. What did Maya do when she found the bird? [1]

Ans. _____

5. From the passage find a word which is the antonym (opposite) of: [2x1/2=1]

- a) enemy x _____
- b) weak x _____

Section B – Grammar & Writing (15 marks)

II. Fill in the blanks with the correct option given in the brackets: [5x1=5]

[truth, soldiers, Bangalore, crowd, river]

- 1. The _____ marched across the border.
- 2. The _____ was cheering for the singer.
- 3. _____ is the capital city of Karnataka.
- 4. We should always speak the _____.
- 5. The boat sailed the wide _____.

III. State whether the underlined words in the following sentences are **Common, Proper, Collective or Abstract Nouns**: [5x1=5]

1. The herd of elephants loved to play in the river.

Type of Noun - _____

2. My dog is very friendly.

Type of Noun - _____

3. I love to visit Goa in my holidays.

Type of Noun - _____

2. My **dog** is very friendly.

Type of Noun - _____

3. I love to visit **Goa** in my holidays.

Type of Noun - _____


4. **Happiness** is a feeling that makes you smile.

Type of Noun - _____

5. We should obey and respect our **parents**.

Type of Noun - _____

IV. Look at the picture below and write a paragraph on "A Visit to the Mall." [5]



Section C – Literature (10 marks)

[3x1=3]

V. Read the extract and answer the questions that follow:

**“What do I look like? Well, I’ll have to be true-
I’m not a monster – I’m YOU, YOU and YOU.”**

Choose the correct answer:

1. Name the poem from which the above lines are extracted.

- i) My Garden
- ii) The Lion and the Mouse
- iii) Litterbug
- iv) The Star

2. Whom does the poet refer to as ‘YOU’?

- i) Ray Mather
- ii) ghost
- iii) all of us
- iv) an insect

3. What message does the poem convey?

- i) To throw rubbish everywhere
- ii) To be careless and irresponsible
- iii) to eat a lot of chocolates
- iv) not to litter the environment and not to blame others

VI. Answer the following.

[2x2=4]

Q1. Who was Rathna and where did she work?

Ans. _____

Q2. Name any two things that make up for the litter.

Ans. _____

VII. Answer the following.

[1+2=3]

a) How many people did Rathna take to the planetarium to see the special sight?

Ans. _____

b) What was the special sight which everyone had come to see in the planetarium and how did they see it?

Ans. _____



SINDHI HIGH SCHOOL, K K ROAD

PERIODIC TEST - 1 (2025-26)

SUBJECT: KANNADA

Name: _____

Date: 14/07/2025

Class: 3 _____

No of Printed Sides: 3

Total Marks: 30

Roll No: _____

Time: 8:00am -9:10am

1. ಈ ಕೆಳಗಿನ ಗದ್ಯಾಂಶವನ್ನು ಓದಿಕೊಂಡು, ಕೆಳಗೆ ಕೊಟ್ಟಿರುವ ಪ್ರಶ್ನೆಗಳಿಗೆ ಸರಿಯಾದ ಉತ್ತರ ಆರಿಸಿ ಬರೆಯಿರಿ.

ಉರ ಜಾತ್ರೆಯ ಸಂಭ್ರಮ. ರಥ ಬೀದಿಯು ತಳಿರು ತೋರಣ ಹಾಗೂ ಬಣ್ಣದ ಹೂಗಳ ಅಲಂಕಾರದಿಂದ ಕಂಗೊಳಿಸುತ್ತಿತ್ತು. ನೋಡಿದಲ್ಲೆಲ್ಲಾ ಜನ ಸಾಗರವೇ ನೆರೆದಿತ್ತು. ರಾಜು ಮತ್ತು ಕಮಲ ತಾತನ ಜೊತೆ ಜಾತ್ರೆಗೆ ಬಂದಿದ್ದರು. ಅವರು ಜಾತ್ರೆಯಲ್ಲಿ ಆಟಕೆಗಳನ್ನು ಕೊಂಡರು. ತಾತನ ಅಕ್ಕ- ಪಕ್ಕ ನಿಂತು ಭಕ್ತರು ರಥ ಎಳೆಯುವುದನ್ನು ನೋಡುತ್ತಿದ್ದರು.

ಪ್ರಶ್ನೆಗಳು:

(5X 1=5)

1. ರಥ ಬೀದಿಯು _____ ಹಾಗೂ ಬಣ್ಣದ ಹೂಗಳ ಅಲಂಕಾರದಿಂದ ಕಂಗೊಳಿಸುತ್ತಿತ್ತು.

- 1) ತಳಿರು ತೋರಣ 2) ಬಟ್ಟೆಗಳ 3) ಹೂಗಳ 4) ಕಾಗದಗಳ

2. ನೋಡಿದಲ್ಲೆಲ್ಲಾ _____ ನೆರೆದಿತ್ತು.

- 1) ಗುಂಪು 2) ಜಂಗಳಿ 3) ಜನ ಸಾಗರವೇ 4) ಸಮುದ್ರ

3. ತಾತನ ಅಕ್ಕ ಪಕ್ಕ ನಿಂತು ಭಕ್ತರು _____ ಎಳೆಯುವುದನ್ನು ನೋಡುತ್ತಿದ್ದರು.

- 1) ರಥ 2) ಹಗ್ಗ 3) ಜನ 4) ಅಜ್ಜನ

4. ರಾಜು ಮತ್ತು ಕಮಲ _____ ಜೊತೆ ಜಾತ್ರೆಗೆ ಬಂದಿದ್ದರು.

- 1) ತಾತನ 2) ಅಮ್ಮ 3) ಅಕ್ಕ 4) ಅಜ್ಜನ

5. ಮಕ್ಕಳು ಜಾತ್ರೆಯಲ್ಲಿ _____ ಕೊಂಡರು.

- 1) ಹೂಗಳನ್ನು 2) ಆಟಕೆಗಳನ್ನು 3) ಬಟ್ಟೆಗಳನ್ನು 4) ರಥವನ್ನು

II. ಕೊಟ್ಟಿರುವ ಸೂಚನೆಯನ್ನು ಓದಿ, ಸರಿಯಾದ ಉತ್ತರವನ್ನು ಆರಿಸಿ ಬರೆಯಿರಿ:

(5X 1=5)

1. ಪ. ಫ. ಬ. ಭ. _____ ಮುಂದಿನ ಅಕ್ಷರ ಬರೆಯಿರಿ.

೧. ಯ

೨. ರ

೩. ಮ

೪. ತ

2. ಕ್ + ಆ = ಕಾ :: ಗ್ + ಊ = _____ (ಬಿಟ್ಟಸ್ಥಳ ತುಂಬಿರಿ)

೧. ಗಾ

೨. ಗೀ

೩. ಗ್ಯ

೪. ಗೂ

3. 'ಅಣ್ಣ' ಅನ್ಯ ಲಿಂಗ ರೂಪ ಗುರುತಿಸಿ

೧. ಅಮ್ಮ

೨. ಅಕ್ಕ

೩. ತಂಗಿ

೪. ತಮ್ಮ

4. 'ತಟ್ಟನೆ' ಈ ಪದದ ಅರ್ಥ.

೧. ರಹಸ್ಯ

೨. ತುಂಟಿ

೩. ಕೂಡಲೆ

೪. ಪೋರಿ

5. 'ಚಿಟ್ಟೆ' ಇದರ ಪ್ರಾಸವದ ಗುರುತಿಸಿ)

೧. ಬಟ್ಟೆ

೨. ಸಿಟ್ಟು

೩. ಜೇನು

೪. ಹತ್ತಿ

III ಕೆಳಗೆ ಕೊಟ್ಟಿರುವ ಪದಗಳನ್ನು ಸಜಾತೀಯ ಮತ್ತು ವಿಜಾತೀಯ ಪದಗಳನ್ನು ವಿಂಗಡಿಸಿ ಬರೆಯಿರಿ (4X 1=4)

(ಹಗ್ಗ, ಶ್ವಾನ, ಕತ್ತರಿ, ವಜ್ರ)

ಸಜಾತೀಯ ಒತ್ತಕ್ಷರದ ಪದಗಳು ೧. _____ ೨. _____

ವಿಜಾತೀಯ ಒತ್ತಕ್ಷರದ ಪದಗಳು ೧. _____ ೨. _____

IV. ಕೆಳಗಿನ ಚಿತ್ರದಲ್ಲಿರುವ ಸ್ವರಾಕ್ಷರಗಳನ್ನು ಗುರುತಿಸಿ ಬರೆಯಿರಿ

(4X 1=4)

ಎ ಪ ಜ ಮ ಆ

ಇ ಸ ಊ ರ ಋ

೧. _____ ೨. _____

೩. _____ ೪. _____

V. ಕೆಳಗೆ ಕೊಟ್ಟಿರುವ ಒತ್ತಕ್ಷರಗಳಿಗೆ ೨ ಪದಗಳನ್ನು ಬರೆಯಿರಿ



(4X 1=4)

೧. ಟ್ಟ ರ. _____ ೨ _____

೨. ಟ್ಟ ರ. _____ ೨ _____

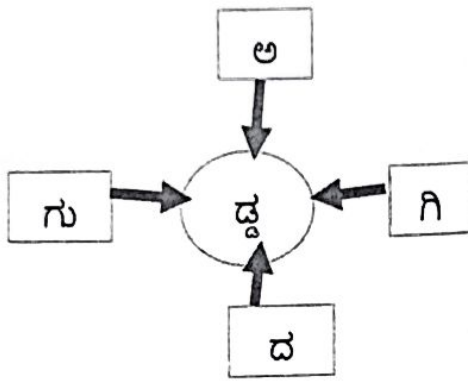
VI. ಕೆಳಗೆ ಕೊಟ್ಟಿರುವ ಚಿತ್ರಗಳನ್ನು ಗುರುತಿಸಿ, ಅವುಗಳ ಹೆಸರನ್ನು ಬರೆಯಿರಿ.

(2X 1=2)



VII. ವೃತ್ತದೊಳಗಿನ ಒತ್ತಕ್ಷರ ಬಳಸಿ ೪ ಪದಗಳನ್ನು ರಚಿಸಿ

(4X 1=4)



೧. _____

೨. _____

೩. _____

೪. _____

VIII. ಕೆಳಗಿನ ಪ್ರಶ್ನೆಗಳಿಗೆ ಒಂದು ವಾಕ್ಯದಲ್ಲಿ ಉತ್ತರಿಸಿ:

(2X1=2)

೧. ಚಿಟ್ಟೆ ಯಾರಿಗೆ ಗುಟ್ಟನ್ನು ಹೇಳುತ್ತದೆ?

ಉ _____

೨. ಚಿಟ್ಟೆಯು ಮುಟ್ಟಲು ಬಂದರೆ ಏನು ಮಾಡುತ್ತದೆ?

ಉ _____



SINDHI HIGH SCHOOL K K ROAD

PERIODIC TEST- 1 (2025 - 26)

Subject - Hindi

No of printed sides - 04



Name- _____

Date - 18/7/2025

Class - 3

Marks - 30

Roll no - _____

Time - 8:00 am to 9: 10 am

। दिए गए गद्यांश को पढ़कर सही उत्तर पर गोला लगाइए। (5)

हिन्दू धर्म में तुलसी को पवित्र माना जाता है। तुलसी भगवान विष्णु का प्रिय पौधा माना जाता है। तुलसी के पत्ते का उपयोग पूजा-पाठ में किया जाता है। तुलसी का उपयोग औषधि के रूप में भी किया जाता है। तुलसी के पौधे को घर के आँगन में लगाना शुभ माना जाता है। तुलसी दो प्रकार की होती हैं: श्यामा तुलसी और राम तुलसी। तुलसी के पौधे को गमले में भी लगाया जा सकता है।

क) हिन्दू धर्म में किस पौधे को पवित्र माना जाता है ?

- i) नारियल ii) तुलसी
iii) आम iv) पुदीना

ख) तुलसी को किस भगवान का प्रिय पौधा माना जाता है ?

- i) भगवान गणेश ii) भगवान शिव
iii) भगवान विष्णु iv) भगवान राम

ग) तुलसी कितने प्रकार की होती हैं ?

- i) दो ii) तीन
iii) चार iv) पाँच

घ) तुलसी के पौधे से क्या बनाया जाता है ?

- i) चावल iii) औषधि
iii) रोटी iv) घर

ड) तुलसी को पौधे को कहाँ लगाना शुभ माना जाता है ?

- i) घर के आँगन में ii) घर के ऊपर
iii) घर के अंदर iv) घर के नीचे

॥ क) पर्यायवाची शब्द लिखिए। (2)

- i) वृक्ष - _____ iii) दीया - _____
iii) दिन - _____ iv) घर

ख) विलोम शब्द लिखिए। (2)

- i) छोटा X _____ ii) रुकना X _____
iii) सामने X _____ iv) पास X _____

ग) मुहावरों के अर्थ लिखिए। (2)

- i) खुशी से झूम उठना - _____
ii) मुँह में पानी आ जाना - _____

घ) अनेक शब्दों के लिए एक शब्द लिखिए। (2)

- i) जिसमें ताकत कम हो - _____
ii) जिसका स्वाद अच्छा हो - _____
iii) मिठाई बनाकर बेचने वाला - _____
iv) फटे दूध से निकली ठोस वस्तु - _____

ड) सही शब्द चुनकर खाली स्थान भरिए।
(के पास, के सामने, की ओर, के मारे)

(2)

- i) मेरे घर _____ पीपल का एक पेड़ है।
- ii) रोहित _____ एक किताब है।
- iii) दर्द _____ वह स्ने गया।
- iv) किसान खेतों _____ गया है।

च) दिए गए शब्दों में स्वर के नीचे रेखा खींचिए।

(2)

अनेक, ईख, आप, अजगर

छ) दिए गए शब्दों में व्यंजनों के नीचे रेखा खींचिए।

(2)

इनाम, आदत, उत्तर, ऊपर

III सही उत्तर पर गोला लगाइए।

(4)

क) महल खड़ा करने के लिए एक के ऊपर एक क्या रखना होगा ?

- i) मिट्टी ii) ईंटें iii) किताबें iv) पत्थर

ख) मीठे बोल बोलने से क्या होता है ?

- i) उजाला ii) हरियाली iii) अपनापन iv) झगड़ा

ग) चीची चूहे को पनीर में नमक मिलकर खाने के लिए किसने कहा ?

- i) छोटू ने ii) मीची ने iii) गिन्नू ने iv) सबने

घ) गिन्नू का बेटा क्या खाने की ज़िद कर रहा था ?

- i) रोटी ii) पनीर iii) हलवा iv) पूरी

IV दिए गए प्रश्नों के उत्तर लिखिए।

(4)

1. वीज बाने पर क्या बन जाता है ?

2. किस तरह चलने वाला लक्ष्य तक पहुँच पाता है ?

3. मीची कौन था ?

4. चीची ने पनीर का टुकड़ा किसे दे दिया ?

V वर्ग - पहेली में से दूध से तैयार होने वाली छः चीजों के नामों पर गोला लगाइए।

(3)

र	स	म	ला	ई
स	खी	ब	र	फ़ी
गु	म	म	कख	न
ल्ला	द	प	खी	र
घी	ही	प	नी	र



Sindhi High School K.K.Road
Periodic test I. (2025 -26)
Subject: Mathematics
No. of printed sides-3



Name:-----

Class: 3 A / B / C

Roll No. -----

Date: 15.07.2025

Marks: 30

Time: 8:00 – 9:10a.m

I. Circle the correct answer.

(1x5=5)

1) What is the place value of 7 in the number 4738?

- a) 7000 b) 700 c) 70 d) 7

2) Which number comes just before 5000?

- a) 5001 b) 4000 c) 4999 d) 49

3) Which of these numbers has the digit 6 in the hundreds place?

- a) 6143 b) 4617 c) 9996 d) 1768

4) What is the successor of 3,140?

- a) 3141 b) 3139 c) 3150 d) 3104

5) What is the short form of $5000 + 600 + 20 + 4$?

- a) 5142 b) 5624 c) 5264 d) 5442

II. Fill in the blanks

(1x5=5)

- The smallest 4-digit number is _____.
- The even number just after 882 is _____.
- The face value of 3 in 3674 is _____.
- 10 hundreds make a _____.
- 'Five thousand three' is written in numerals as _____.

III. Write the number names.

a) 7405 _____

b) 5096 _____

c) 8942 _____

(1x3=3)

(1x2=2)

IV. Write the numerals.

a) Seven thousand twenty seven. _____

b) Four thousand eighteen. _____

(1x2=2)

V. Show these numbers on the abacus.

a. 7603

b. 3972

VI. Write the face value and place value of the under lined digit (1x2=2)

S no.	Number	Place value	Face Value
1.	3 <u>6</u> 7 9		
2.	4 5 <u>3</u> 2		

VI. Compare and put the correct sign in the box. (<, =, >) (1x2=2)

a. 7406 7064

b. 6494 6944


VII. Form the greatest and the smallest 4 digit numbers using the given digits. ($\frac{1}{2} \times 4 = 2$)

DIGITS	GREATEST NUMBER	SMALLEST NUMBER
6,4,5,2		
2,6,3,9		

VIII. Sort out the following numbers as even or odd. (1x3=3)
 1112 , 8079 , 2016 , 9087 , 1143 , 1290

EVEN

ODD



IX. Write the place value of all the digits in this number. ($\frac{1}{2} \times 4 = 2$)
 8 9 7 5

X. Arrange in ascending order. (1)
 4439 , 4569 , 4934 , 4699

ANS:

--	--	--	--

XI. Arrange in descending order. (1)
 9186 , 9168 , 9886 , 9881

ANS:

--	--	--	--



Sindhi High School K.K. Road
Periodic Test 1 2025-26
EVS



No. of printed sides-5

Name:
Class: 3 A B C
Roll.No.

Date: 17.7.25
Marks: 30
Time: 8.00-9.10AM

Answer all the questions

I. Multiple choice questions

1X5

1. Which of the following is a living thing?
a) A rock
b) A tree
c) A car
d) A table
2. Special plants that grow near the sea-
a) Water plants
b) Pitcher plant
c) Mangroves
d) Cactus
3. Which characteristic is NOT found in living things?
a) Breathing
b) Growing
c) Eating
d) Shining
4. Identify the root-
a) Sugarcane
b) Potato
c) Carrot
d) Mango
5. Short sized plants with soft, green, delicate stem.
a) Tree
b) Climber
c) Creeper
d) Herb

II. Write true or false

½ X5=2½

1. Living things grow over time.
2. Fruit is the fleshy part of the plant and is edible.
3. Non-living things can breathe.
4. Plants are a good source of wood and timber..
5. A bud is a shoot from which a flower grows.

III. Answer the following

1. Define Lifespan.

2. What are nutrient?

3. Write any two characteristic of living things that non-living.



i. _____

ii. _____



i. _____

ii. _____

4. Differentiate between a Shrub and a Climber.

Shrub	Climber

5. Write briefly about the following

i. Roots:

ii. Flower:





$\frac{1}{2} \times 5 = 2\frac{1}{2}$

IV. Analogy

- 1. Tree: Living thing :: Car: _____
- 2. Plant: _____ Stone: Do not breathe.
- 3. Creeper: _____ :: Climber: Pea plant
- 4. Leaves: Photosynthesis :: Roots: _____
- 5. Rose: shrub :: Tulsi: _____


V. Observe and colour the things that reproduce in **Green colour** and that do not reproduce in **Red colour**

$\frac{1}{2} \times 6 = 3$



VI. Draw and label the parts of a plant

3X1 = 3



VII. Mention any four uses of a Plant.

1X4=4
